


Count how many.

1.  =

2.  =

3.  =

4.  =


5.  =

6.  =


7.  =

8.  =

9.  =

10.  =

11.  =

12.  =

13.  =

14.  =

15.  =

16.  =

17.  =

18.  =

19.  =

20.  =